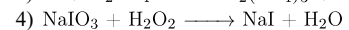

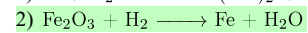



Задания

Задание 26 № 1676

Выберите схему практически осуществимой реакции (указаны все исходные вещества и продукты реакций без коэффициентов):



Решение.

